

1. Risolvi graficamente le disequazioni:  $\sqrt{25 - x^2} < x + 5$

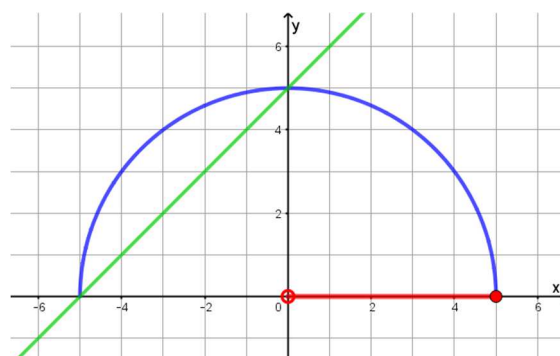
$\sqrt{6x - x^2 - 8} + x \geq 4$ .

Considero l'arco di circonferenza e la retta di equazione, rispettivamente:

$$y = \sqrt{25 - x^2} \qquad y = x + 5$$

$$\begin{cases} y \geq 0 \\ 25 - x^2 \geq 0 \\ y^2 = (\sqrt{25 - x^2})^2 \end{cases} \qquad \begin{cases} y \geq 0 \\ -5 \leq x \leq 5 \\ x^2 + y^2 = 25 \end{cases}$$

L'arco di circonferenza è dato dalla circonferenza di centro coincidente con l'origine, ma ne considero solo la parte superiore. Per quanto riguarda la retta, si tratta di una retta parallela alla bisettrice di primo e terzo quadrante e passante per il punto (0, 5).



Dopo aver rappresentato anche la retta, determino il punto di intersezione che ha ascissa 0. La soluzione è indicata in rosso nel disegno:

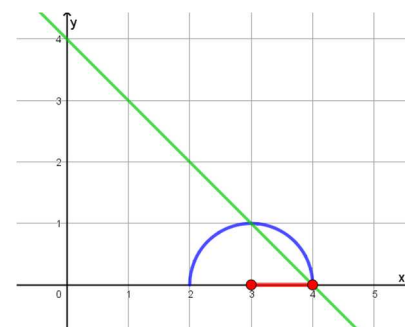
$$0 < x \leq 5$$

Considero l'arco di circonferenza e la retta di equazione, rispettivamente:

$$y = \sqrt{6x - x^2 - 8} \qquad y = 4 - x$$

$$\begin{cases} y \geq 0 \\ 6x - x^2 - 8 \geq 0 \\ y^2 = (\sqrt{6x - x^2 - 8})^2 \end{cases} \qquad \begin{cases} y \geq 0 \\ 2 \leq x \leq 4 \\ x^2 + y^2 - 6x + 8 = 0 \end{cases}$$

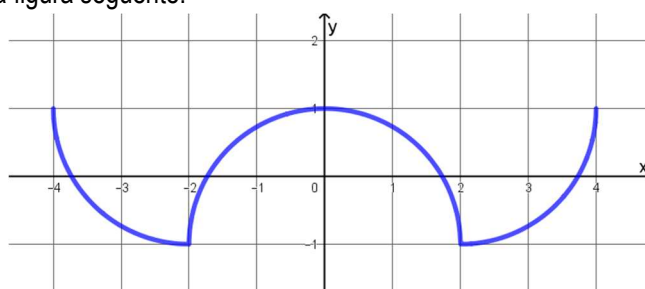
L'arco di circonferenza è dato dalla circonferenza di centro (3; 0), ma ne considero solo la parte superiore. Per quanto riguarda la retta, si tratta di una retta parallela alla bisettrice di secondo e quarto quadrante e passante per il punto (0, 4).



Dopo aver rappresentato anche la retta, determino i punti di intersezione che hanno ascissa 3 e 4. La soluzione è indicata in rosso nel disegno:

$$3 \leq x \leq 4$$

2. Trova l'equazione del grafico della figura seguente:



Il primo tratto è un arco di circonferenza di centro (-2; 1) e raggio 2; il secondo ha centro nel punto (0; -1) e raggio 2; il terzo ha centro in (2; 1) e raggio 2:

$$\begin{aligned} (x + 2)^2 + (y - 1)^2 &= 4 & (y - 1)^2 &= 4 - x^2 - 4x - 4 & y &= 1 - \sqrt{-x^2 - 4x} \\ (x - 0)^2 + (y + 1)^2 &= 4 & (y + 1)^2 &= 4 - x^2 & y &= -1 + \sqrt{4 - x^2} \\ (x - 2)^2 + (y - 1)^2 &= 4 & (y - 1)^2 &= 4 - x^2 + 4x - 4 & y &= 1 - \sqrt{-x^2 + 4x} \end{aligned}$$

$$y = \begin{cases} 1 - \sqrt{-x^2 - 4x} & -4 \leq x \leq -2 \\ -1 + \sqrt{4 - x^2} & -2 < x < 2 \\ 1 - \sqrt{4x - x^2} & 2 \leq x \leq 4 \end{cases}$$

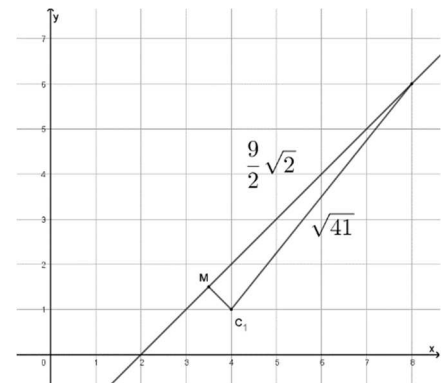
3. Una circonferenza ha il raggio di misura  $\sqrt{41}$ . Di una sua corda si sa che giace sulla retta di equazione  $y = x - 2$ , che misura  $9\sqrt{2}$  e che il suo punto medio ha ordinata  $\frac{3}{2}$ . Determina il centro della circonferenza.

Siccome ho l'ordinata del punto medio M della corda, posso determinarne l'ascissa, sostituendo l'ordinata nell'equazione della retta:

$$\frac{3}{2} = x - 2 \quad x = 2 + \frac{3}{2} = \frac{7}{2} \quad M\left(\frac{7}{2}; \frac{3}{2}\right)$$

Dalle informazioni che abbiamo il centro della circonferenza ha una distanza pari al raggio da uno degli estremi della corda, la distanza tra M e l'estremo della corda è metà della misura della corda e, utilizzando il teorema di Pitagora, possiamo determinare la distanza tra M e il centro della circonferenza:

$$C_1M = \sqrt{41 - \left(\frac{9\sqrt{2}}{2}\right)^2} = \frac{\sqrt{2}}{2}$$



Il centro della circonferenza, inoltre, si trova sulla retta passante per M e perpendicolare alla retta della corda. Ponendo poi la distanza dal punto medio uguale al valore appena trovato, posso determinare le coordinate dei due centri:

$$\begin{cases} y - \frac{3}{2} = -(x - \frac{7}{2}) \\ \left(x - \frac{7}{2}\right)^2 + \left(y - \frac{3}{2}\right)^2 = \frac{1}{2} \end{cases} \quad \begin{cases} y = -x + 5 \\ \left(x - \frac{7}{2}\right)^2 + \left(-x + \frac{7}{2}\right)^2 = \frac{1}{2} \end{cases}$$

Risolvendo la seconda equazione:

$$\left(x - \frac{7}{2}\right)^2 = \frac{1}{4} \quad x - \frac{7}{2} = \pm \frac{1}{2} \quad \begin{cases} 4 \\ 3 \end{cases} \quad C_1(3; 2) \quad C_2(4; 1)$$

4. Scrivi l'equazione della circonferenza di raggio  $\frac{1}{2}\sqrt{34}$ , sapendo che il suo centro appartiene al terzo quadrante e che è circoscritta a un rettangolo che ha due vertici consecutivi nei punti (1; 0) e (0; 1). Determina il perimetro del rettangolo.

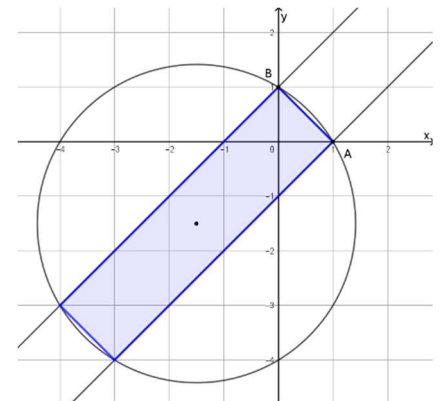
I due vertici del rettangolo appartengono alla retta  $y = -x + 1$ .

La distanza tra i due vertici è:  $\sqrt{1^2 + 1^2} = \sqrt{2}$ .

Considero il triangolo rettangolo che ha un vertice nel punto (1; 0), un altro nel centro della circonferenza e il terzo nel punto medio della base del rettangolo: conoscendo la distanza tra il centro della circonferenza e il punto (1; 0) – che è pari al raggio – e la distanza tra il centro e il punto medio della base – che è metà della distanza tra i due vertici del rettangolo dati, otteniamo:

$$AM = \sqrt{\left(\frac{1}{2}\sqrt{34}\right)^2 - \left(\frac{\sqrt{2}}{2}\right)^2} = 2\sqrt{2}$$

Perciò il lato del rettangolo è  $4\sqrt{2}$  e il perimetro del rettangolo è:  $2(\sqrt{2} + 4\sqrt{2}) = 10\sqrt{2}$ .



Conoscendo i due punti e il raggio, posso determinare la circonferenza, sostituendo le coordinate dei due punti nell'equazione generica della circonferenza e ponendo l'espressione generale del raggio uguale al valore dato:

$$\begin{cases} 1 + 0 + a + 0 + c = 0 \\ 0 + 1 + 0 + b + c = 0 \\ \sqrt{\frac{a^2}{4} + \frac{b^2}{4}} - c = \frac{\sqrt{34}}{2} \end{cases} \quad \begin{cases} a = -1 - c \\ b = -1 - c \\ 1 + c^2 + 2c + 1 + c^2 + 2c - 4c = 34 \end{cases} \quad \begin{cases} a = -5 \\ b = -5 \\ c = 4 \end{cases} \quad \begin{cases} a = 3 \\ b = 3 \\ c = -4 \end{cases}$$

Escludo la prima soluzione, perché il centro della circonferenza deve essere nel terzo quadrante:

$$x^2 + y^2 + 3x + 3y - 4 = 0$$

5. La parabola di equazione  $y = x^2 - 1$  interseca l'asse delle ascisse nei punti A e B.
- A. Scrivi l'equazione della circonferenza bitangente in A e in B alla parabola.
- B. Determina l'equazione della retta  $r$  parallela all'asse delle ascisse, tale che la somma dei quadrati delle misure delle corde intercettate su  $r$  dalla parabola e dalla circonferenza sia uguale a 3.

Dopo aver rappresentato la parabola, determino i punti di intersezione con l'asse  $x$ :

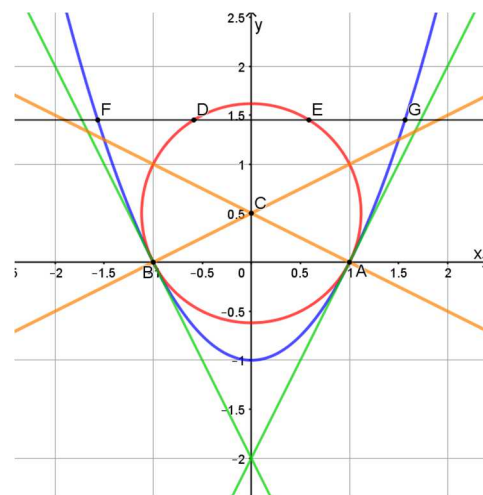
$$\begin{cases} y = x^2 - 1 \\ y = 0 \end{cases} \quad \begin{cases} x = \pm 1 \\ y = 0 \end{cases} \quad A(1; 0) \quad B(-1; 0)$$

- A. Determino le equazioni delle rette tangenti alla parabola nei punti A e B, che sono tangenti anche alla circonferenza. Determino quindi le rette perpendicolari alle due tangenti e passanti per il punto di tangenza: mettendole a sistema, determino le coordinate del centro della circonferenza e quindi posso trovarne l'equazione.

$$\begin{aligned} t_A: \frac{y}{2} &= x - 1 & y &= 2x - 2 \\ t_B: \frac{y}{2} &= -x - 1 & y &= -2x - 2 \end{aligned}$$

$$\begin{cases} y = -\frac{1}{2}(x - 1) \\ y = \frac{1}{2}(x + 1) \end{cases} \quad x - 1 = -x - 1 \quad C\left(0; \frac{1}{2}\right)$$

$$(x - 0)^2 + \left(y - \frac{1}{2}\right)^2 = 1 + \frac{1}{4} \quad x^2 + y^2 - y - 1 = 0$$



- B. Considero la retta parallela all'asse delle ascisse, di generica equazione  $y = k$ , tale che interseca la circonferenza nei punti D ed E e la parabola nei punti G ed F – come in figura. La richiesta è:  $\overline{DE}^2 + \overline{FG}^2 = 3$ .

Determino le generiche intersezioni con le due coniche e pongo la somma dei quadrati delle distanze uguale a 3:

$$\begin{cases} y = k \\ y = x^2 - 1 \end{cases} \quad x^2 = 1 + k \quad D(-\sqrt{1+k}; k) \quad E(\sqrt{1+k}; k)$$

$$\begin{cases} y = k \\ x^2 + y^2 - y - 1 = 0 \end{cases} \quad x^2 = -k^2 + k + 1 \quad F(-\sqrt{1+k-k^2}; k) \quad G(\sqrt{1+k-k^2}; k)$$

$$(2\sqrt{1+k})^2 + (2\sqrt{1+k-k^2})^2 = 3 \quad 4(1+k) + 4(1+k-k^2) = 3$$

$$4 + 4k + 4 + 4k - 4k^2 = 3 \quad 4k^2 - 8k - 5 = 0 \quad k_{1,2} = \frac{4 \pm \sqrt{16 + 20}}{4} = \left\{ \begin{array}{l} \frac{5}{2} \\ -\frac{1}{2} \end{array} \right.$$

Considerando che il raggio della circonferenza è  $\frac{\sqrt{5}}{2}$ , perciò:  $\frac{1-\sqrt{5}}{2} \leq y \leq \frac{1+\sqrt{5}}{2}$ , non posso accettare il valore  $\frac{5}{2}$ .

La retta richiesta ha quindi equazione:  $y = -\frac{1}{2}$ .